

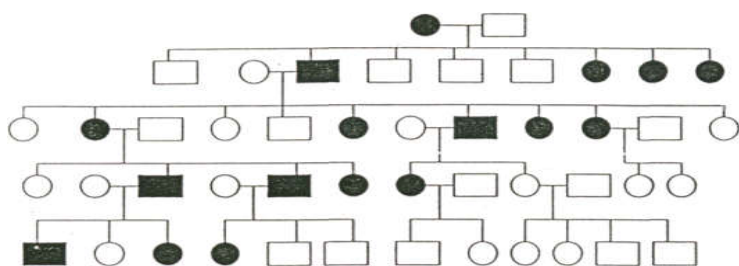
Генетика

Занятие №4

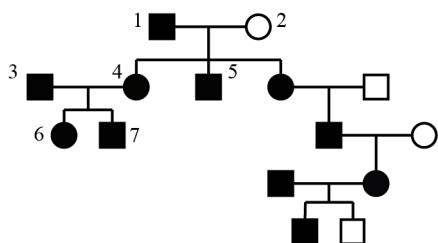
Тема: генеалогический, близнецовый, биохимический методы наследственности.

По родословным, представленным на рисунках, установите характер наследования признака, выделенного черным цветом, генотипы участников и объясните встречаемые условные обозначения.

Задача1.

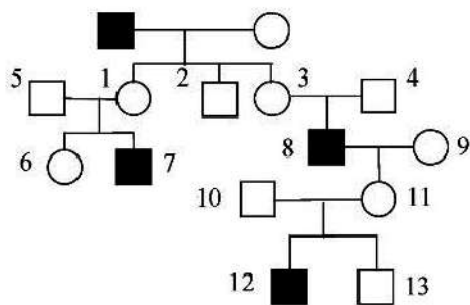


Задача2.



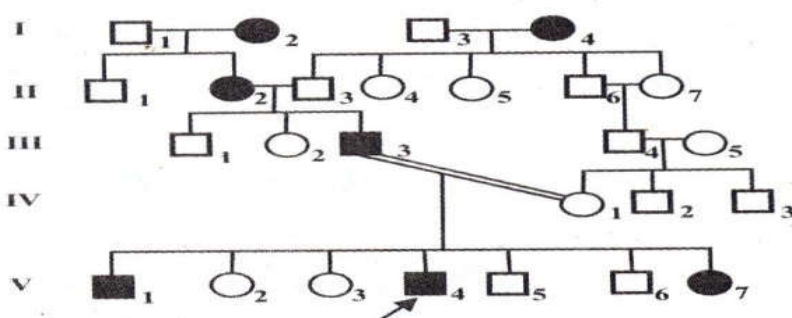
Условные обозначения:
○ – женщина
□ – мужчина
○ – □ – брак
□ – дети одного брака
■ ● – проявление исследуемого признака

Задача 3.

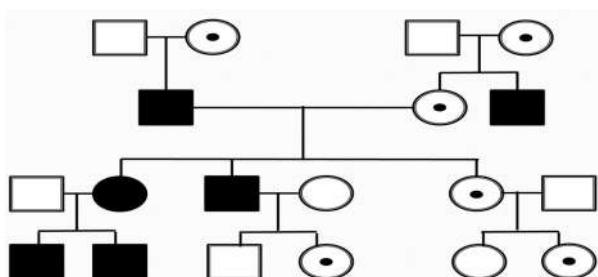


Условные обозначения
○ – женщина
□ – мужчина
○ – □ – брак
□ – дети одного брака
■ ● – проявление исследуемого признака

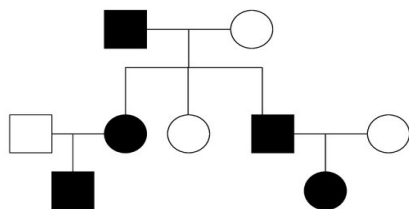
Задача 4.



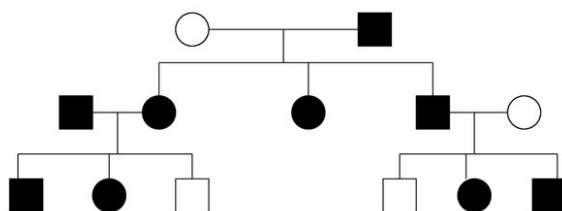
Задача 5.



Задача 6.



Задача 7.



Задача 8.

